



CAREER CENTRE THE PATH TO SUCCESS

WEEKLY CLASS MOCK TEST_2407

Website- www.careercentre360.com Email- apanacareerssm@gmail.com MOB 9430206005

1. उकाई बांध किस नदी पर स्थित है?

- (A) माही (B) ताप्ती (C) कर्जन (D) नर्मदा

Answer: b

2. भारत में वैष्णववाद की वृद्धि का प्रमाण 'हेलिओडोरसा स्तंभ', किस भारतीय शहर में स्थित है?

- (A) लखनऊ (B) कानपुर (C) उज्जैन (D) विदिशा

Answer: D

3. औद्योगिक संस्थापनाओं में भार उठाने के लिए जिस हाइड्रोलिक जैक का उपयोग किया जाता है वह भौतिकी के किस नियम पर आधारित है?

- (A) खेल सिद्धांत (B) आर्किमिडीज सिद्धांत (C) न्यूटन का नियम (D) पास्कल का नियम

Answer: D

4. हमारी अँतड़ी में पाया जाने वाला बैक्टीरिया कौन सा है जो हमें खाना पचाने में मदद करता है?

- (A) लेक्टोबेसिल्लस एसिडोफिलस (B) स्टेफिलोकोकस ऑरियस (C) क्लोस्ट्रीडियम बोटुलिनम (D) कैंपाइलोबैक्टर जेजुनी

Answer: A

5. महिला विजेताओं को दिया जाने वाला फर्स्ट लेडीज अवार्ड किस मंत्रालय की एक पहल है?

- (A) मानव संसाधन विकास मंत्रालय (B) सूचना और प्रसारण मंत्रालय (C) जनस्वास्थ्य मंत्रालय (D) महिला और बाल विकास मंत्रालय

Answer: D

6. बर्फ से ढकी चोटियों वाली एकमात्र पर्वत श्रृंखला कौन सी है?

- (A) हिमालय (B) सतपुड़ा (C) सहयाद्री (D) पटकाई

Answer: A

7. लॉर्ड कर्जन की निगरानी में बंगाल का विभाजन किस वर्ष हुआ था?

- (A) 1906 (B) 1905 (C) 1913 (D) 1911

Answer: B

8. पुस्तक 'द इंडिया ऑफ माइ ड्रीम्स' के लेखक कौन हैं?

- (A) जवाहर लाल नेहरू (B) राजेन्द्र प्रसाद (C) सरदार वल्लभभाई पटेल (D) महात्मा गांधी

Answer: D

9. नौगकर्म नृत्य उत्सव किस भारतीय राज्य में मनाया जाने वाला एक पारंपरिक नृत्य उत्सव है?

- (A) गोवा (B) मिजोरम (C) मेघालय (D) सिक्किम

Answer: C

10. भारतीय संसद में दिवाला और दिवालियापन संहिता विधेयक किस वर्ष पारित किया गया था?

- (A) 2017 (B) 2014 (C) 2016 (D) 2018

Answer: D

11. दुनिया की आधी से अधिक जैव विविधता (पौधों और जानवरों की विविधता) कहाँ पाई जाती है?

- (A) अर्ध-सदाबहार वन (B) उष्ण-कटिबंधीय वर्षा-वन (C) कटीले वन (D) शुष्क सदाबहार वन

Answer: B

12. 'मज्म उल बहरैन' पुस्तक लिखने वाला मुगल शासक कौन था?

- (A) औरंगजेब (B) हुमायूँ (C) दारा शूकोह (D) बाबर

Answer: C

13. भारतीय संविधान में 'मौलिक अधिकारों' की अवधारणा को निम्नलिखित में से किस देश के संविधान से लिया गया है?

- (A) सोवियत संघ (B) संयुक्त राज्य अमरीका (C) यूनाइटेड किंगडम (D) आयरलैंड

Answer: B

14. कौन सी नदी दस देशों से होकर बहती है?

The Path to Success

CAREER CENTRE

Dharmshila Road, Sasaram- 821115

FOCUS

FOR

SSC RAILWAY BANKING

(A) डैन्यूब (B) वोल्गा (C) फुरात (इयुफ्रेटीस) (D) दजला (टिगरिस)

Answer: A

15. पैरालंपिक स्वर्ण पदक जीतने वाले पहले भारतीय कौन हैं?

(A) राजिंदर सिंह (B) वरुण सिंह भाटी (C) मरियप्पन थान्नावेलु (D) दीपा मलिक

Answer: C

16. प्राचीन काल में, बौद्ध काल के दौरान, कपिलवस्तु के शासक कौन थे?

(A) शाक्य (B) लिच्छवि (C) गुप्त (D) मौर्य

Answer: A

17. किस भारतीय को भारत सरकार के लिए 10 बार बजट प्रस्तुत करने का गौरव हासिल है?

(A) मोरारजी देसाई (B) प्रणव मुखर्जी (C) डॉ. मनमोहन सिंह (D) पी. चिदंबरम

Answer: A

18. यदि किसी देश में बजट घाटा है, और यह स्थिति लंबे समय तक बनी रहती है, तो इसका परिणाम क्या होगा?

(A) अधिशेष बजट (B) संतुलित बजट (C) ब्याज दर में कमी (D) बढ़ता कर्ज

Answer: D

19. भारतीय खाद्य निगम (FCI) की स्थापना कब की गई?

(A) 1967 (B) 1960 (C) 1965 (D) 1969

Answer: C

20. 'बागुरुम्बा' भारत की किस जनजाति का पारंपरिक नृत्य है?

(A) मुण्डा (B) भील (C) बोडो (D) गारो

Answer: C

21. निम्नलिखित में से कौन सा जानवर बिल/मांद में रहता है?

(A) कछुआ (B) मगरमच्छ (C) ऑक्टोपस (D) खरगोश

Answer: D

22. विश्व में किस देश की साक्षरता दर सबसे अधिक है?

(A) रूस (B) ऑस्ट्रेलिया (C) संयुक्त राज्य (D) जापान

Answer: A

23. नॉर्वे का सबसे प्रतिष्ठित पुरस्कार नॉर्वे नेशनल अवार्ड पाने वाले पहले भारतीय अभिनेता कौन हैं?

(A) दिलीप कुमार (B) नवाजुद्दीन सिद्दीकी (C) आदिल हुसैन (D) अमिताभ बच्चन

Answer: C

24. मछली में मौजूद राइबोफ्लेविन को _____ के रूप में भी जाना जाता है।

(A) विटामिन K (B) विटामिन C (C) विटामिन B2 (D) विटामिन B12

Answer: C

25. दुनिया में किस पर्वत दर्रे पर दुनिया की सबसे ऊंची मोटर वाहन योग्य सड़क है?

(A) शिपकी-ला (B) नाथू-ला (C) डुंगरी-ला (D) जलेप-ला

Answer: C

26. Select the most appropriate ANTONYM of the word given in the bracket to fill in the blank.

She looks like a young Sigourney Weaver and plays the (naïve) _____ heroine well, if a little too credulous for my taste.

(A) tricked (B) childish (C) careless (D) sophisticated

Answer: d

27. Select the most appropriate ANTONYM of the given word.

Regret

(A) Contentment (B) Dissatisfaction (C) Impatience (D) Irritation

Answer: A

28. Select the most appropriate ANTONYM of the word given in brackets to fill in the blank.

The company of friends made her feel _____ (cranky), as she was all alone in her apartment.

(A) awful (B) wishful (C) fearful (D) cheerful

Answer: d

29. Select the most appropriate ANTONYM of the given word.

The Path to Success

CAREER CENTRE

DISCIPLINE

LABOUR

THE PATH TO SUCCESS

LABOUR

FOCUS

Dharmshala Road, Sasaram - 821115

SSC RAILWAY BANKING

9430206005

Progressive

- (A) Conservative (B) Repeated (C) Moving (D) Scanty

Answer: a

30. Select the most appropriate ANTONYM of the given word.

Demolish

- (A) Destroy (B) Divide (C) Diminish (D) Construct

Answer: D

31. Select the most appropriate meaning of the given idiom.

Think on your feet

- (A) Be interested in trekking and running a race (B) stand up to be able to solve a problem
(C) Be ready to take up all the challenges that you face (D) Adjust quickly to changes and make fast decisions

Answer: D

32. Select the most appropriate meaning of the given idiom.

Hang up one's boots

- (A) Tease an opponent (B) Show disrespect (C) Retire from a sport (D) Challenge someone

Answer: C

33. Select the most appropriate meaning of the given idiom.

Be riding high

- (A) To be very successful (B) A drunken person (C) A person who is a pilot (D) To be in good mood

Answer: a

34. Substitute the underlined words with the option that is closest in meaning to it.

Rahul likes to keep his house spic and span.

- (A) rich and famous (B) shabby and dirty (C) bright and glory (D) neat and clean

Answer: d

35. Select the most appropriate meaning of the highlighted idiom in the given sentence.

The marriage of my elder brother has been on the cards for some time now.

- (A) Probable (B) Stuck (C) Improbable (D) Certain

Answer: a

36. Select the option that can be used as a one -word substitute for the given group of words.

Brighten with light

- (A) illustrate (B) celebrate (C) illuminate (D) Terminate

Answer: C

37. Select the option that can be used as a one- word substitute for the given group of words.

Study of insects

- (A) Entomology (B) Ornithology (C) Geology (D) Terminology

Answer: A

38. Select the option that can be used as a one - word substitute for the given group of words.

A condition in which one is unable to sleep over a period of time

- (A) Insomnia (B) Sickness (C) Complaint (D) Disorder

Answer: A

39. Select the option that can be used as a one- word substitute for the given group of words .

The sound an elephant makes

- (A) bray (B) Grunt (C) Low (D) Trumpet

Answer: D

40. Select the option that can be used as a one-word substitute for the given group of words.

A person who arranges and sells cut flowers

The Path to Success

CAREER CENTRE

DISCIPLINE

LABOUR

THE PATH TO SUCCESS

SUCCESS

OF LIFE

PASSION

FOCUS

CONFIDENCE

FOR

SSC RAILWAY

BANKING

Darmshila Road Sasaram - 821115

www.careercentre6.com

9130200005

- (A) Grocer (B) Flautist (C) Florist (D) Gardener

Answer: C

41. Select the word that is similar in meaning to the underlined word.

My boss maintained a very parochial view of the world.

- (A) Harmonious (B) Laughing (C) Narrow (D) Patriarchal

Answer: C

42. Select the most appropriate synonym of the given word to fill in the blank in the sentence.

Elaborate A/an _____ water clock depicting zodiac signs is present in the city museum.

- (A) resonant (B) intricate (C) beautiful (D) divulging

Answer: B

43. Select the most appropriate synonym of the given word.

Level (adj)

- (A) rough (B) Matched (C) frequent (D) flat

Answer: D

44. Select the most appropriate synonym of the given word.

Confuse

- (A) Puzzle (B) Disunion (C) Compose (D) Admit

Answer: A

45. Select the most appropriate SYNONYM of the given word.

Erect

- (A) Topple (B) Lower (C) Raze (D) Raise

Answer: D

46. Select the option that expresses the given sentence in passive voice.

These girls speak English fluently.

- (A) English was spoken fluently by these girls. (B) English is spoken fluently by these girls.
(C) English is being spoken fluently by these girls. (D) English has been spoken fluently by these girls.

Answer: B

47. Select the option that expresses the given sentence in active voice.

Let the fence be repaired by him.

- (A) He has repaired the fence. (B) Let him repair the fence.
(C) Tell him to repair the fence. (D) He had repaired the fence.

Answer: B

48. Select the option that expresses the given sentence in passive voice.

Switch off the lights before you leave.

- (A) The lights should be switching off before you leave. (B) The lights should switch off before you leave.
(C) Let the lights be switched off before you leave. (D) Let the lights be switch off before you leave.

Answer: C

49. Select the option that expresses the given sentence in passive voice.

Anant was recording a new song in his studio.

- (A) In his studio a new song was recorded by Anant.
(B) In his studio Anant will record a new song.
(C) A new song was being recorded by Anant in his studio.
(D) A new song had been recorded by Anant in his studio.

Answer: C

50. Select the option that expresses the given sentence in passive voice.

The audience was making fun of the speaker

- (A) The speaker has been made fun of by the audience.
(B) The speaker was being made fun of by the audience.
(C) The speaker is being made fun of by the audience.

The Path to Success
**CAREER
CENTRE**

Dharmshala Road, Sasaram - 821115

LABOUR
FOCUS
FOR
**SSC RAILWAY
BANKING**

(D) The speaker was made fun of by the audience.

Answer: b

51. The ratio of two numbers is 9 : 13 and their HCF is 6, Their LCM is:

(A) 720 (B) 710 (C) 702 (D) 602

Answer: C

52. तीन संख्याओं 105, 335 और 465 का महत्तम समापवर्तक (HCF) ज्ञात करें।

(A) 11 (B) 3 (C) 7 (D) 5

Answer: d

53. यदि 3 और 27 का तीसरा समानुपाती 'x' है, तो 'x' और 27 का महत्तम समापवर्तक क्या होगा ?

(A) 3 (B) 15 (C) 27 (D) 9

Answer: C

54. वह सबसे बड़ी संख्या कौन-सी है, जो 411, 684, 821 को विभाजित करने के फलस्वरूप क्रमशः 3, 4 तथा 5 के शेषफल देती है?

(A) 254 (B) 146 (C) 136 (D) 204

Answer: C

55. $\frac{18}{5}$, $\frac{6}{5}$ और $\frac{18}{125}$ का ल.स. (LCM) ज्ञात करें।

(A) 4.8 (B) 5.2 (C) 3.6 (D) 8.3

Answer: C

56. एक विभाजन क्रिया में, भाजक भागफल का 12 गुना और शेषफल का 6 गुना है, यदि शेषफल 42 है, तो भाज्य क्या होगा?

(A) 5334 (B) 5292 (C) 5313 (D) 5271

Answer: a

57. यदि कोई नौ-अंको की संख्या $785x3678y$ 72 से विभाज्य है, तो $(3x - 4y)$ का मान ज्ञात कीजिए

(A) 12 (B) 2 (C) 4 (D) 5

Answer: b

58. यदि $2794p561$, 9 से विभाज्य है, तो p का मान _____ होगा।

(A) 2 (B) 0 (C) 3 (D) 4

Answer: a

59. 9 से विभाज्य 19,596 की दो निकटतम संख्याएँ कौन-सी हैं?

(A) 19,509; 19,611 (B) 19,564; 19,620 (C) 19,611; 19,575 (D) 19,593; 19,602

Answer: d

60. दो संख्याओं का गुणनफल 9216 है जब बड़ी संख्या को छोटी संख्या से विभाजित किया जाता है, तो भागफल 16 और शेषफल शून्य प्राप्त होता है उन संख्याओं के बीच अंतर क्या है?

(A) 408 (B) 384 (C) 380 (D) 360

Answer: d

61. $\sqrt{58\frac{7}{9}}$ का मान ज्ञात कीजिए।

(A) $7\frac{2}{3}$ (B) $7\frac{7}{9}$ (C) $2\frac{2}{3}$ (D) $2\frac{7}{9}$

Answer: A

The Path to Success

CAREER
CENTRE

DISCIPLINE

LABOUR

THE PATH
TO
SUCCESS

FOCUS

CONFIDENCE

FOR
SSC RAILWAY
BANKING

Dharmshala Road, Sasaram - 821115

430206005

62. $(2.697 + 0.498)^2 - (2.697 - 0.498)^2$ का लगभग मान ज्ञात कीजिए।
(A) 2.199 (B) 3.195 (C) 5.37 (D) 2.00

Answer: C

63. $18 \left[4 - 3 \left\{ 6 - \left(8 \times \frac{1}{2} \right) \right\} \right]$ का मान ज्ञात कीजिए।
(A) -36 (B) 20 (C) 36 (D) 16

Answer: A

64. $\frac{7+3\sqrt{5}}{3+\sqrt{5}} + \frac{7-3\sqrt{5}}{3-\sqrt{5}}$ को सरल कीजिए।
(A) 4 (B) 3 (C) 6 (D) 5

Answer: B

65. यदि $3x + 4 \times 8 \div 9 = x \div 3 - 1$ है, तो x का मान ज्ञात कीजिए।

- (A) $\frac{21}{24}$ (B) $-\frac{41}{24}$ (C) 1 (D) 2

Answer: B

66. A अपने धन का 45% खर्च करता है। शेष धन का 35% खर्च करने के बाद, उसके पास Rs.286 बचते हैं। मूल रूप से उसके पास कितना धन (Rs. में) था?

- (A) 750 (B) 1,000 (C) 800 (D) 900

Answer: C

67. अनिल की आय Rs.45,000 है। वह अपनी आय का 16% बचाता है। यदि उसकी आय में 5% की कमी होती है और व्यय में 2% की वृद्धि होती है, तो उसकी बचत में _____ की कमी होगी।

- (A) Rs.3,026 (B) Rs.3,006 (C) Rs.2,996 (D) Rs.3,016

Answer: B

68. एक कस्बे की जनसंख्या 2007 में 268000 से बढ़कर 2010 में 375200 हो गई। तीन वर्षों में कस्बे की जनसंख्या में हुई प्रतिशत वृद्धि कितनी है?

- (A) 32% (B) 30% (C) 28% (D) 40%

Answer: D

69. एक व्यक्ति अपनी आय का 75% खर्च करता है। यदि उसकी आय 29% बढ़ जाती है और उसकी बचत भी 20% बढ़ जाती है, तो उसके व्यय में हुई प्रतिशत वृद्धि कितनी होगी?

- (A) 36% (B) 30% (C) 28% (D) 32%

Answer: D

70. एक उपकरण का मूल्य प्रत्येक वर्ष 20% कम हो जाता है। यदि तीसरे और चौथे वर्ष के अंत में इसके मूल्यों में अंतर Rs.3,328 है, तो दूसरे वर्ष के अंत में उपकरण का मूल्य कितना होगा?

- (A) Rs.16,640 (B) Rs.18,600 (C) Rs.20,800 (D) Rs.17,400

Answer: C

71. एक विक्रेता ने एक रुपय में 7 टाफियां खरीदीं 40% लाभ प्राप्त करने के लिए उसे एक रुपय में कितनी टाफियां बेचना चाहिए?

- (A) 5 (B) 7 (C) 4 (D) 6

Answer: a

72. मंजीत सिंह ने लागत मूल्य के $\frac{1}{5}$ मुनाफे पर रु9000 में एक वस्तु बेची, तो लाभ प्रतिशत ज्ञात कीजिए

- (A) 10% (B) 20% (C) 22% (D) 25%

Answer: b

73. Rs. 69 में एक वस्तु को बेचने पर 8 % की हानि होती है। यदि इसे Rs. 78 में बेचा जाता है तो प्रतिशत लाभ या हानि कितनी है ?

The Path to Success
**CAREER
CENTRE**

Dharmshala Road, Sasaram - 821115

FOR
**SSC RAILWAY
BANKING**

9430206005

- (A) 4 % लाभ (B) न लाभ न हानि (C) 40 % लाभ (D) 4 % हानि

Answer: A

74. Rs. 72 में एक वस्तु को बेचने पर 10% की हानि होती है। 5% का लाभ पाने के लिए उसे इसे कितने में बेचना चाहिए ?
(A) Rs. 87 (B) Rs. 85 (C) Rs. 80 (D) Rs. 84

Answer: D

75. यदि एक वस्तु का क्रय मूल्य Rs. 220 है तथा लाभ 20% है, तो वस्तु का विक्रय मूल्य क्या होगा?
(A) Rs. 256 (B) Rs. 216 (C) Rs. 264 (D) Rs. 176

Answer: C

76. शब्द "ETHICAL" के प्रत्येक स्वर को अंग्रेजी वर्णमाला क्रम में उसके बाद आने वाले अगले अक्षर से बदल दिया जाता है और प्रत्येक व्यंजन को अंग्रेजी वर्णमाला क्रम में उसके पहले आने वाले अक्षर से बदल दिया जाता है। इस प्रकार बने नये शब्द में बाएं से तीसरे अक्षर और दाएं से पहले अक्षर के बीच अंग्रेजी वर्णमाला क्रम में कितने अक्षर हैं?

- (A) दो (B) पाँच (C) तीन (D) चार

Answer: C

77. निर्देश : निम्नलिखित प्रश्नों में दिए गए विकल्पों में से वह शब्द चुनिए, जो दिए गए शब्द के अक्षरों का प्रयोग करके नहीं बनाया जा सकता।

COMMENTATOR

- (A) TART (B) COMMON (C) MOMENT (D) COSMOS

Answer: D

78. "CAMBRIDGE" शब्द में अक्षरों के ऐसे कितने जोड़े हैं जितने की वर्णमाला के क्रम में होते हैं ?
(A) कोई नहीं (B) 1 (C) 2 (D) 3 (E) 3 से अधिक

Answer: B

79. उस विकल्प का चयन करें, जो तीसरे अक्षर-समूह से ठीक उसी प्रकार संबंधित है जिस प्रकार दूसरा अक्षर-समूह पहले अक्षर-समूह से संबंधित है।

CANVAS : DCQZFY :: LOANER : ?

- (A) MQDSKX (B) MRDRJY (C) MQDRJX (D) MQRJY

Answer: C

80. उस विकल्प का चयन करें, जो तीसरे भाव से ठीक उसी प्रकार संबंधित है, जिस प्रकार दूसरा भाव पहले भाव से संबंधित है।

रूपया : मुद्रा :: गर्मी : ?

- (A) तापमान (B) आर्द्रता (C) मौसम (D) ऊष्मा

Answer: C

81. उस विकल्प का चयन करें, जो तीसरी संख्या से ठीक उसी प्रकार संबंधित है, जिस प्रकार दूसरी संख्या पहली संख्या से संबंधित है।

6 : 85 :: 12 : ?

- (A) 313 (B) 346 (C) 210 (D) 301

Answer: A

82. उस संख्या समुच्चय का चयन करें, जो निम्न समुच्चय के समान है।

{16, 30, 36}

- (A) {14, 32, 48} (B) {9, 24, 25} (C) {16, 48, 64} (D) {12, 24, 32}

Answer: B

83. विकल्पों में से उस नाम का चयन करें, जो किसी प्रकार दिए गए नामों के सेट के समरूप है।

बिस्मिल्लाह खान, जेआरडी टाटा, एम विश्वेश्वरैया, सचिन तेंदुलकर

- (A) प्रणब मुखर्जी (B) महात्मा गांधी (C) बाबा आमटे (D) विश्वनाथ आनंद

Answer: A

84. चार अक्षर-समूह दिए गए हैं, जिनमें से तीन किसी प्रकार समान हैं जबकि एक असंगत है। उस असंगत अक्षर-समूह का चयन करें।

The Path to Success

CAREER CENTRE

DISCIPLINE

LABOUR

PATH TO SUCCESS

FOCUS

MISSION

FOR

CONFIDENCE

SSC RAILWAY BANKING

Dharmshala Road, Sasaram - 821115

0430206005

(A) ADI (B) EHM (C) FJN (D) DGL

Answer: C

85. किसी निश्चित कूट भाषा में, यदि storm=15, apple = 6, virtue= 35 है, तो cupboard = ?
(A) 31 (B) 37 (C) 23 (D) 45

Answer: B

86. यदि किसी निश्चित कूट भाषा में LEARNING को 82463739 के रूप में और MOBILE को 510782 के रूप में कूटबद्ध किया जाता है, तो उसी कूट भाषा में IMAGINE को किस रूप में कूटबद्ध किया जाएगा?
(A) 7549732 (B) 8317945 (C) 6548732 (D) 7206834

Answer: D

87. यदि 'FESTIVE' को '16113215011' के रूप में और 'HUNGER' को '1427815114' के रूप में कूटबद्ध किया जाता है, तो 'GRUDGE' को किस रूप में कूटबद्ध किया जाएगा?
(A) 12457111851 (B) 15241718511 (C) 15427181511 (D) 14527811151

Answer: C

88. किसी निश्चित कूट भाषा में '274' का अर्थ 'God is great' है, '137' का अर्थ 'I worship God' है और '752' का अर्थ 'God is omnipotent' है। इसी भाषा में निम्न में से किस संख्या का अर्थ 'worship' होगा?
(A) 5 (B) 7 (C) 2 (D) 3

Answer: D

89. उस विकल्प का चयन करें जो निम्न शब्दों का वह क्रम दर्शाता है जिस क्रम में वे अंग्रेजी शब्दकोश में आते हैं।

1-Identify 2-Identifier 3-Identifiable 4-Identikit 5-Identity

(A) 5-4-3-2-1 (B) 2-1-3-5-4 (C) 3-2-1-4-5 (D) 2-3-1-4-5

Answer: C

90. उस विकल्प का चयन करें जो दिए गए शब्दों का वह क्रम दर्शाता है जिस क्रम में वे अंग्रेजी शब्दकोश में आते हैं?

1-Calibrate 2-California 3-Caliphate 4-Calicut 5-Caliber

(A) 5, 1, 4, 2, 6, 3 (B) 5, 1, 2, 4, 3, 6 (C) 4, 1, 5, 6, 3, 2 (D) 1, 5, 4, 2, 6, 3

Answer: A

91. उस अक्षर संयोजन का चयन करें, जिसे दी गई श्रेणी के खाली स्थानों में क्रमिक रूप से रखने पर श्रेणी पूरी हो जाएगी।

_ c _ d d _ c a _ c b d d b _ a

(A) caddb (B) cdaba (C) abbac (D) abcac

Answer: C

92. अक्षरों के उस सही संयोजन का चयन करें, जिन्हें क्रमिक रूप से दी गई अक्षर श्रेणी में रिक्त स्थानों पर रखने से श्रेणी पूर्ण हो जाएगी।

c _ _ d _ k n d _ k _ d c

(A) knncc (B) kcnen (C) nkcdn (D) knccn

Answer: D

93. दिए गए पैटर्न का ध्यानपूर्वक अध्ययन कीजिए और उस संख्या का चयन कीजिए जो इसमें प्रश्नवाचक चिह्न (?) के स्थान पर आ सकती है।

15 14 220

20 18 290

11 40 ?

206005

(A) 310 (B) 340 (C) 320 (D) 390

Answer: A

94. पांच व्यक्ति, A, B, C, D, E, केंद्र की ओर अभिमुख होकर एक गोल मेज के परितः बैठे हैं।

1) E और D के पड़ोस में A बैठा है।

2) B, D के बाएं दूसरे स्थान पर बैठा है।

B के दाएं पड़ोस में कौन बैठा है?

The Path to Success

CAREER CENTRE

DISCIPLINE

LABOUR

PATH

TO SUCCESS

PATH

FOCUS

CONFIDENCE

FOR

SSC RAILWAY BANKING

Dharmshala Road, Sasaram - 821111

(A) E (B) C (C) D (D) A

Answer: B

95. A, B, C, D और E पांच सेल्समैन वृत्ताकार मेज के परितः एक मीटिंग में बैठे हैं। A, E के ठीक बाईं ओर पड़ोस में बैठा है। C, B के ठीक बाईं ओर पड़ोस में बैठा है। B और A के बीच में D बैठा है। E के दाईं ओर दूसरे स्थान पर कौन बैठा है?

(A) A (B) D (C) B (D) C


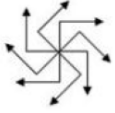
Answer: C

96. छः मित्र पश्चिम की ओर अभिमुख होकर एक पंक्ति में बैठे हैं। गौरव, मीनल के बाईं ओर तीसरे स्थान पर बैठा है। वासु और मीनल के बीच में वरुण बैठा है। पूर्वी, वरुण के दाईं ओर तीसरे स्थान पर बैठी है। ललित, मीनल के ठीक दाईं ओर पड़ोस में बैठा है। गौरव किसी एक कोने पर बैठा है। पूर्वी के ठीक बाईं ओर कौन बैठा है?


(A) मीनल (B) गौरव (C) ललित (D) वासु

Answer: C

97. उस विकल्प आकृति का चयन करें, जो निम्न आकृति में अन्तःस्थापित है। (घुमाने की अनुमति नहीं है)



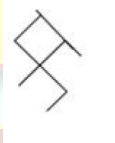
(A)



(B)



(C)



(D)

Answer: C

98. उस विकल्प का चयन कीजिए जो दी गई आकृति में इसके भाग के रूप में अंतर्निहित है (घुमाने की अनुमति नहीं है)।



(A)



(B)



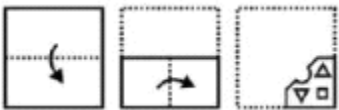
(C)



(D)

Answer: A

99. कागज के एक टुकड़े को मोड़ा जाता है और उसमें छेद किया जाता है जैसा कि नीचे आकृतियों में दिखाया गया है। दी गई उत्तर आकृतियों में से बताइए कि खोले जाने के बाद यह किस उत्तर आकृति के समान दिखाई देगी?




(A)



(B)



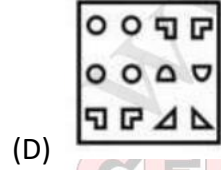
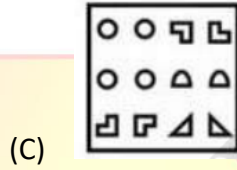
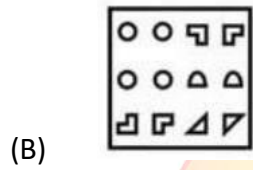
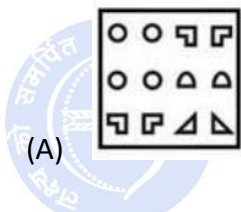
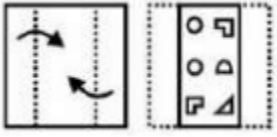
(C)



(D)

Answer: a

100. कागज के एक को मोड़ा जाता है और इसमें एंव किया जाता है, जैसा कि नीचे प्रश्न रूतियों में दिखाया गया उत्तर आकृतियों में से बताइए कि खाली जाने के बाद वह किस उत्तर आवृत्ति के समान दिखाई देग

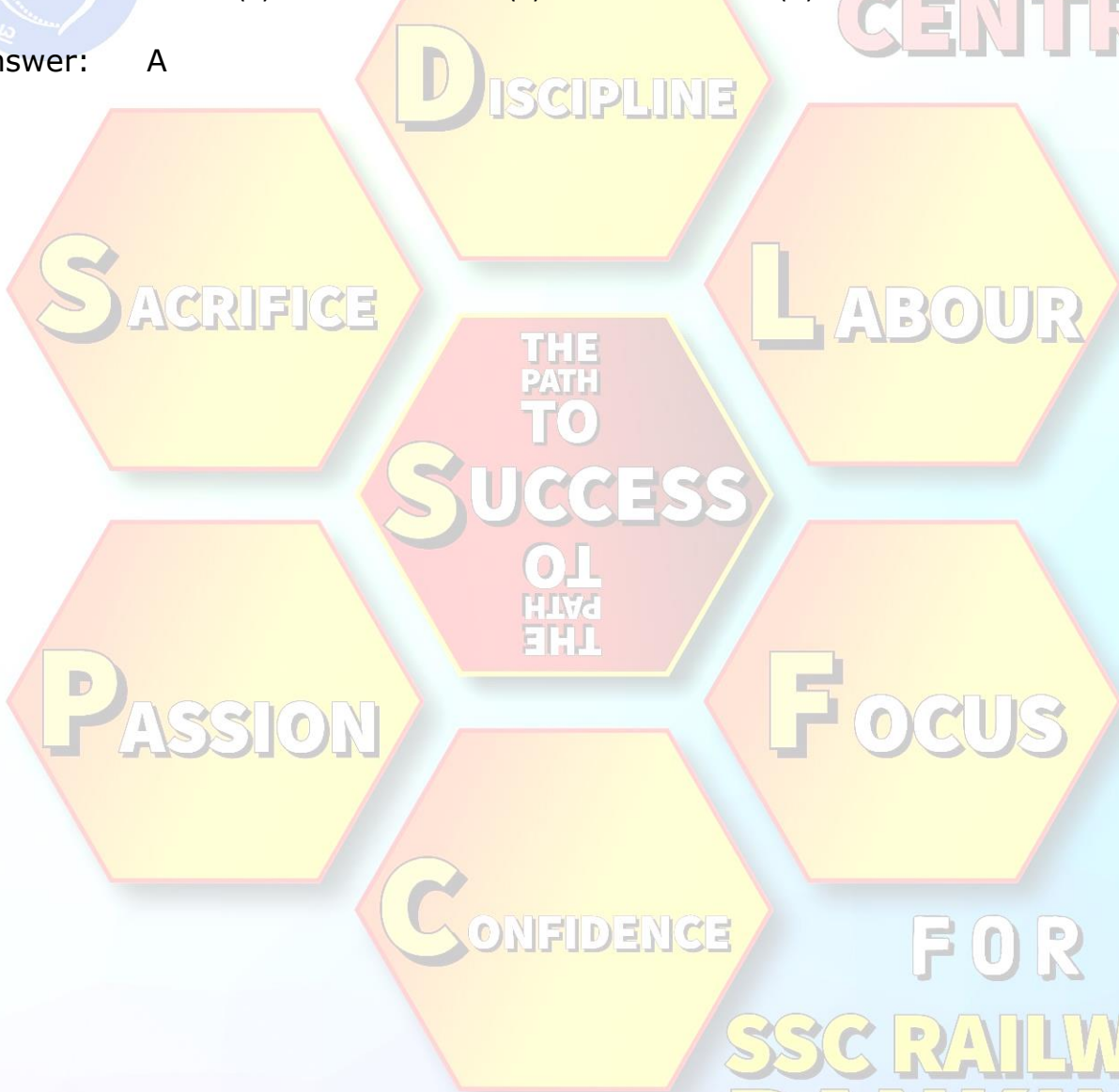


Answer: A

Path to Success
CAREER CENTRE

www.careercentre360.com

Dharmshala Road, Sasaram - 821115



9430206005

**FOR
SSC RAILWAY
BANKING**